



図をつかって考えよう

たし算とひき算の かんけい 3 (1)

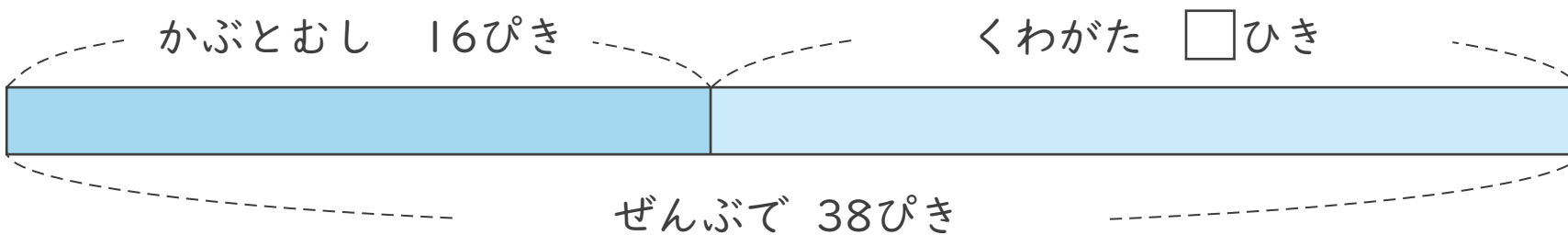
ねん
年

くみ
組

なまえ
名前

図を見て \square をもとめる しきと 答えを 書きましょう。

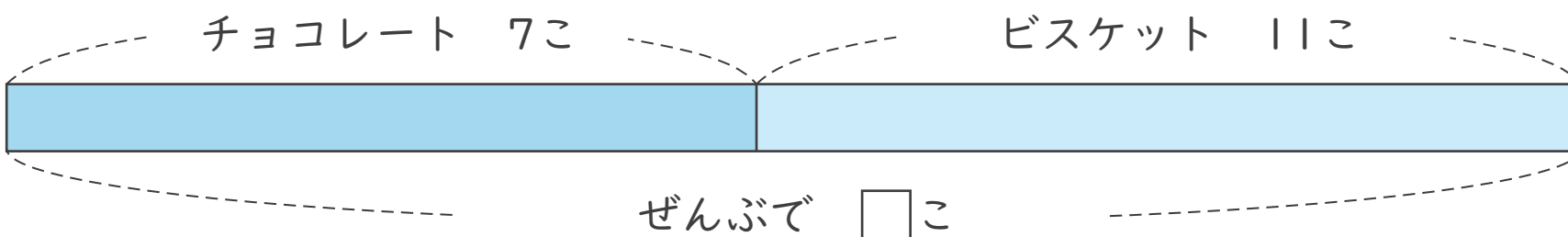
1 くわがたは 何ひきですか。



(しき)

答え

2 チョコレートとビスケット ぜんぶで 何こですか。



(しき)

答え



図をつかって考えよう

たし算とひき算のかんけい 3 (2)

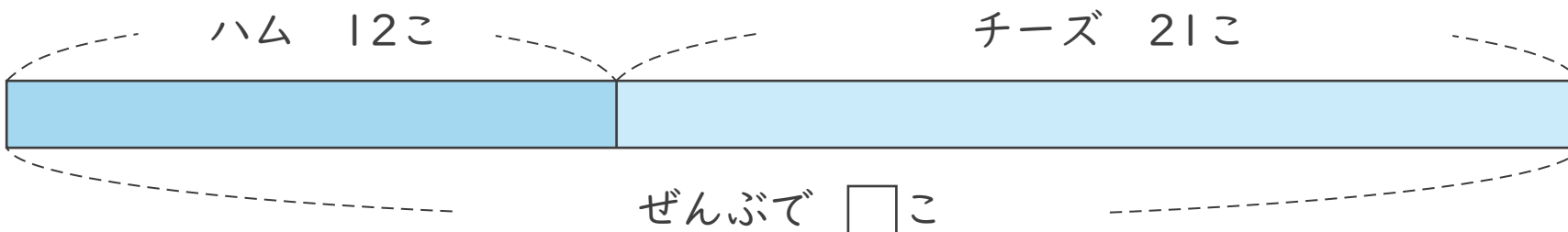
ねん
年

くみ
組

なまえ
名前

図を見て \square をもとめるしきと答えを書きましょう。


1 ハムとチーズぜんぶで何こですか。



(しき)

答え

2 ネギはいくらですか。



(しき)

答え



図をつかって考えよう

たし算とひき算の かんけい 3 (3)

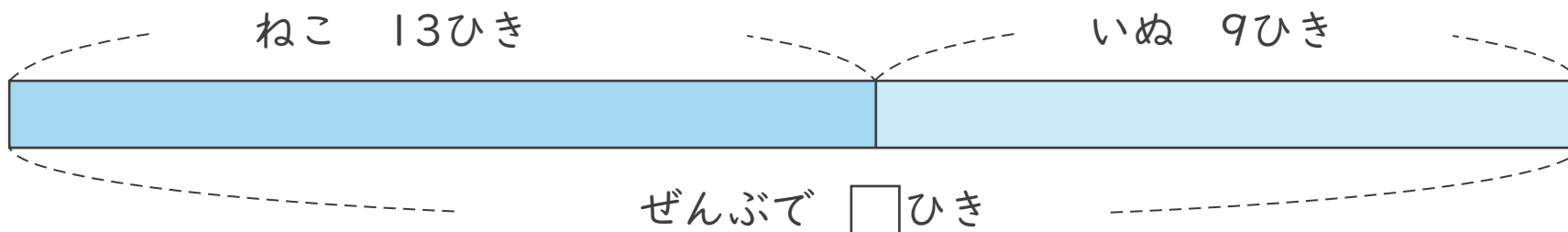
ねん
年

くみ
組

なまえ
名前

図を見て \square をもとめる しきと 答えを 書きましょう。

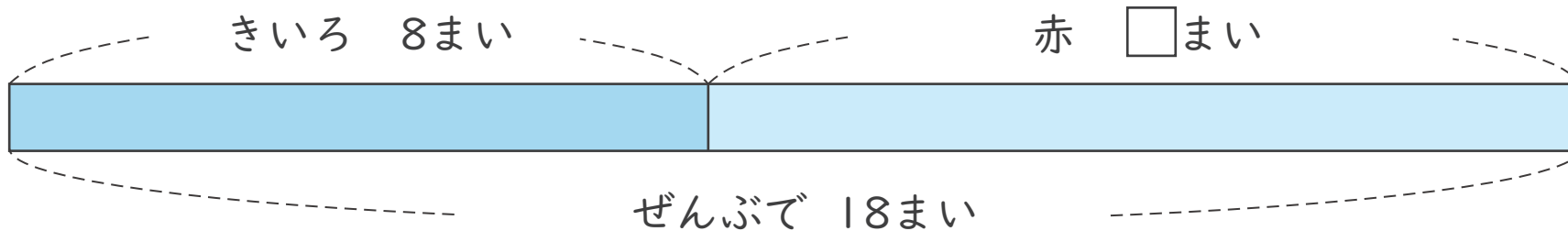
1 ねこと いぬ 合わせて 何ひきですか。



(しき)

答え

2 赤の おり紙は 何まいですか。



(しき)

答え



図をつかって考えよう

たし算とひき算の かんけい 3 (4)

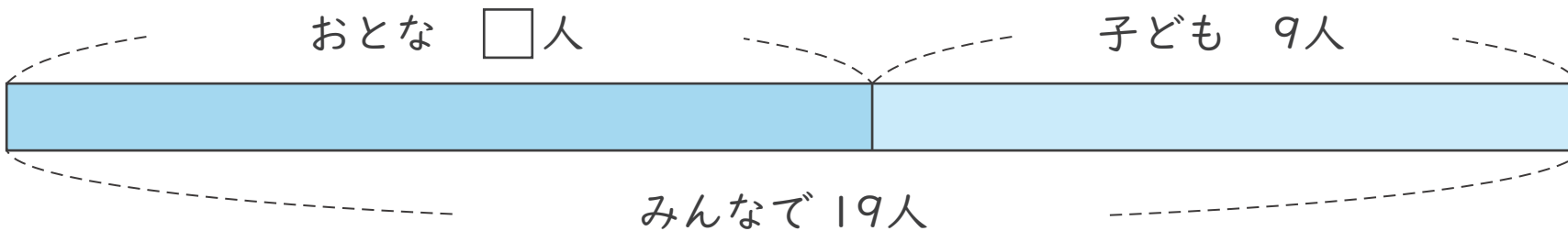
ねん
年

くみ
組

なまえ
名前

図を見て \square をもとめる しきと 答えを 書きましょう。

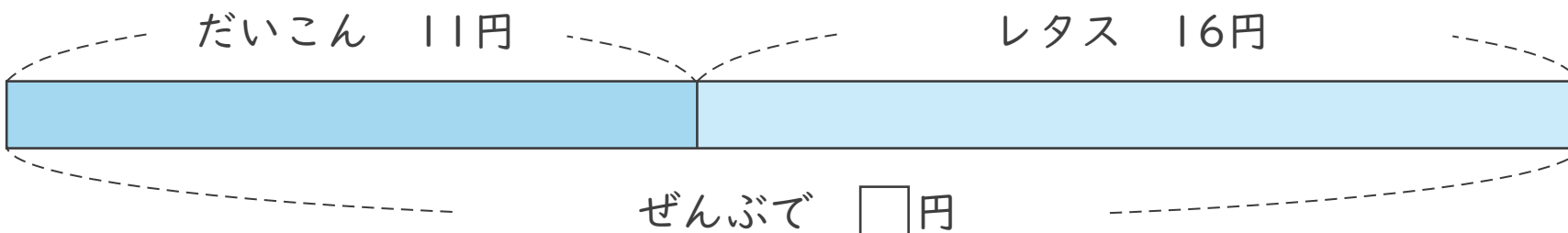
1 おとなは 何人ですか。



(しき)

答え

2 だいこんと レタス ぜんぶでいくらですか。



(しき)

答え



図をつかって考えよう

たし算とひき算のかんけい 3 (6)

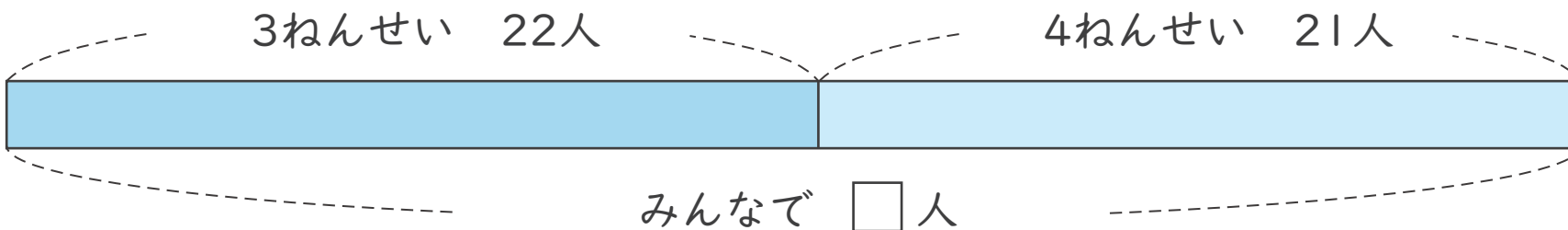
ねん
年

くみ
組

なまえ
名前

図を見て をもとめる しきと 答えを 書きましょう。

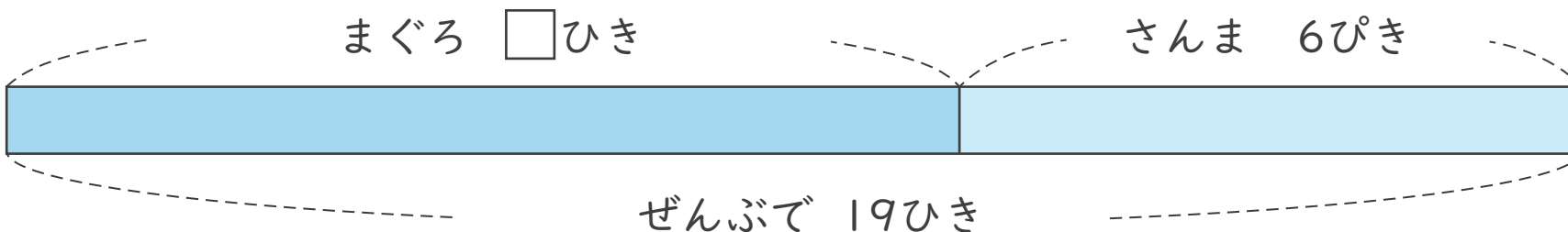
1 3ねんせい 4ねんせい あわせて 何人ですか。



(しき)

答え

2 まぐろは 何びきですか。



(しき)

答え



図をつかって考えよう

たし算とひき算の かんけい 3 (7)

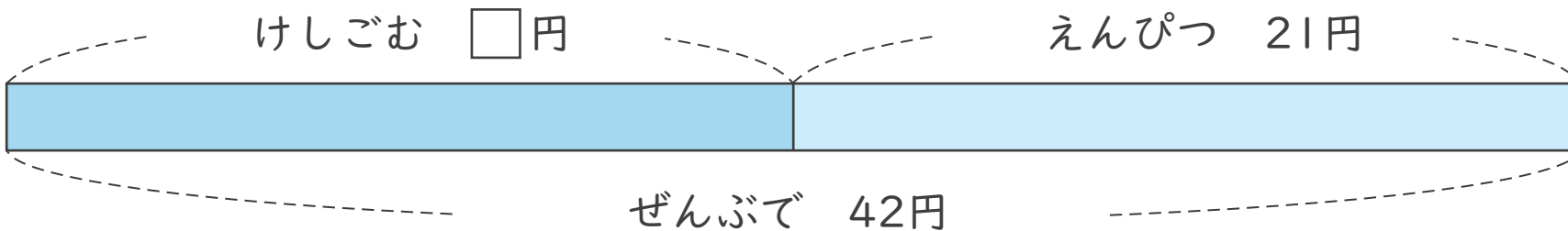
ねん
年

くみ
組

なまえ
名前

図を見て \square をもとめる しきと 答えを 書きましょう。

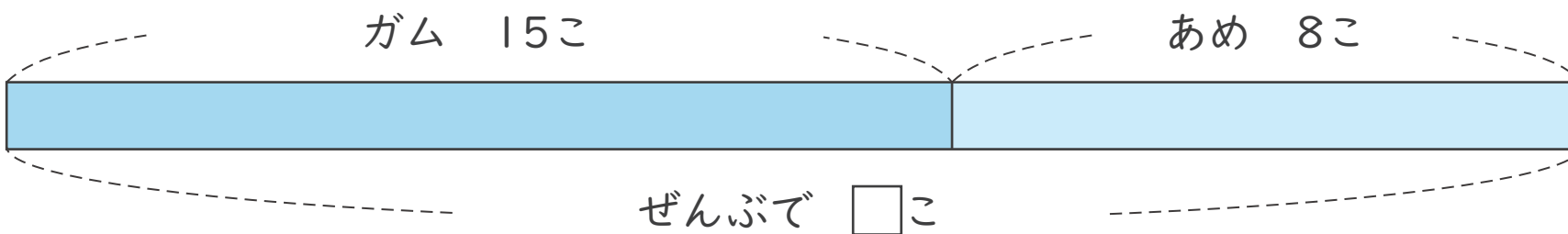
1 けしごむは いくらですか。



(しき) _____

答え _____

2 ガムと あめ ぜんぶで 何こですか。



(しき) _____

答え _____



図をつかって考えよう

たし算とひき算の かんけい 3 (8)

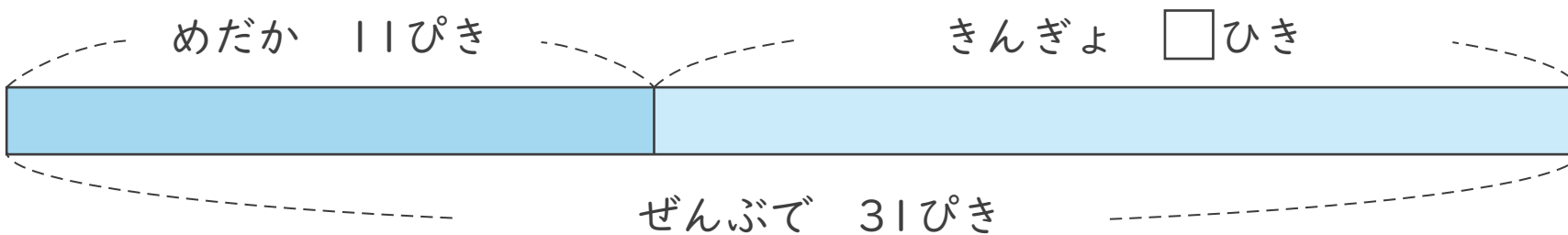
ねん
年

くみ
組

なまえ
名前

図を見て \square をもとめる しきと 答えを 書きましょう。

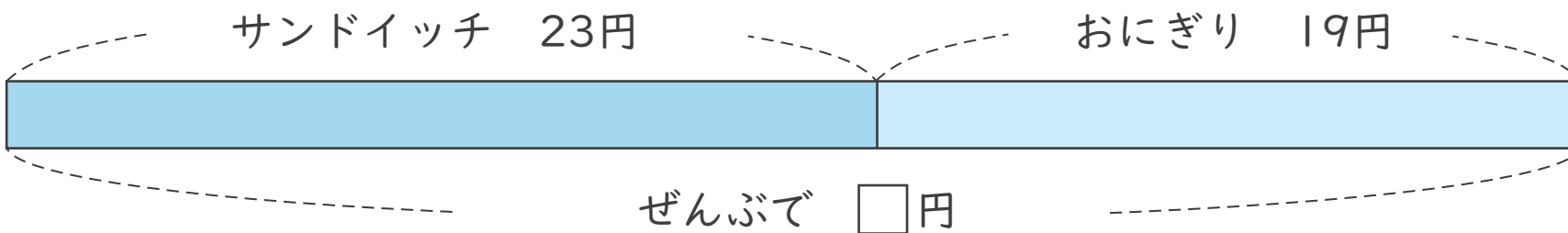
1 きんぎょは何ひきですか。



(しき)

答え

2 サンドイッチとおにぎり ぜんぶでいくらですか。



(しき)

答え



図をつかって考えよう

たし算とひき算のかんけい 3 (9)

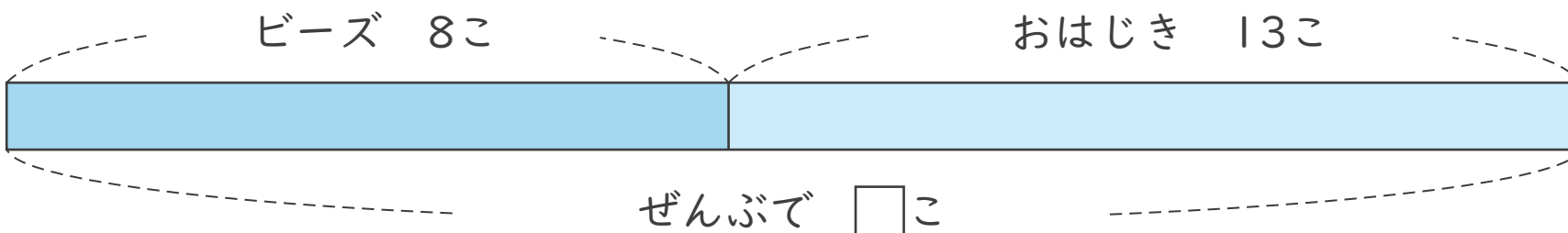
ねん
年

くみ
組

なまえ
名前

図を見て をもとめる しきと 答えを書きましょう。

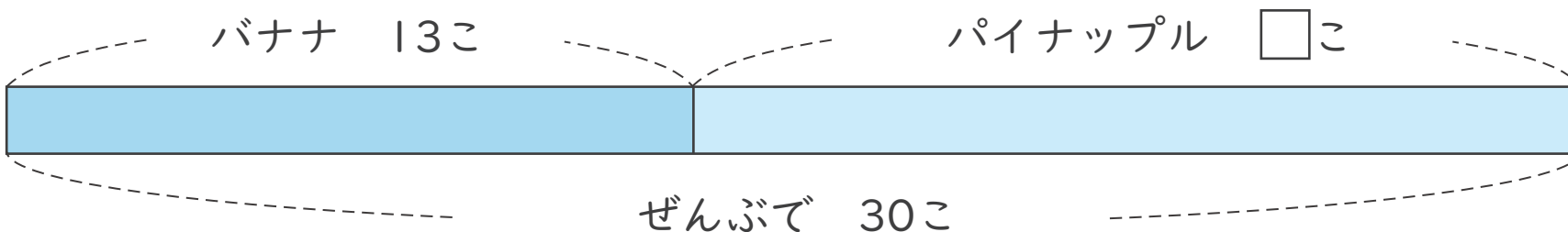
1 ビーズとおはじきぜんぶで何こですか。



(しき)

答え

2 パイナップルは何こですか。



(しき)

答え



図をつかって考えよう

たし算とひき算の かんけい 3 (10)

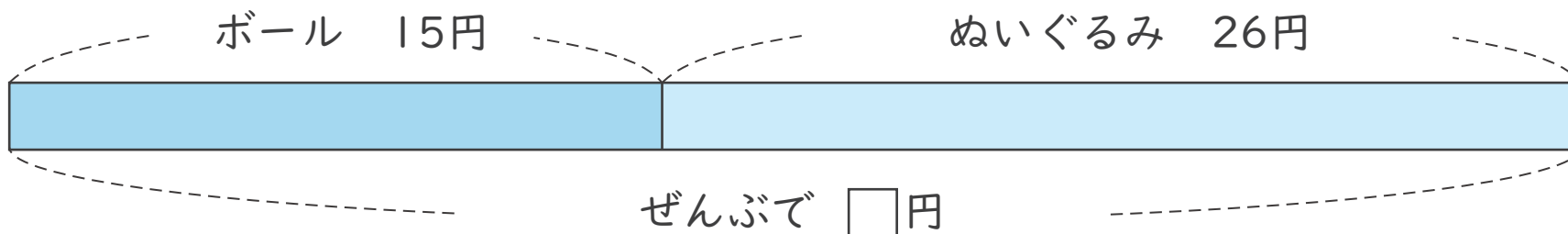
ねん
年

くみ
組

なまえ
名前

図を見て \square をもとめる しきと 答えを 書きましょう。

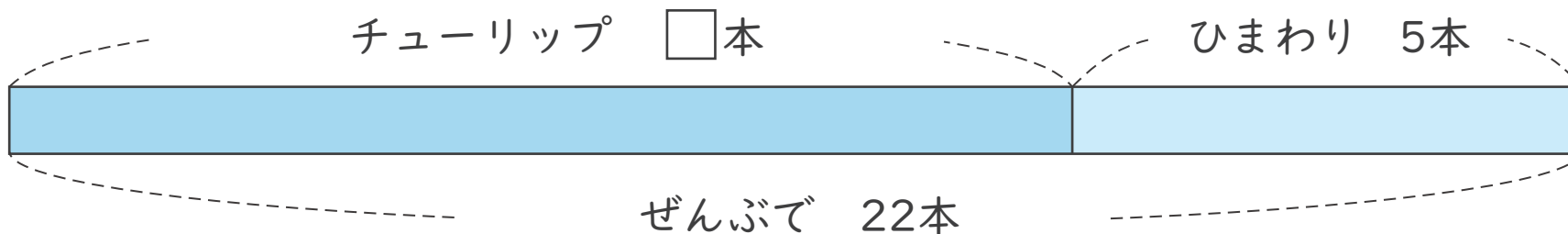
1 ボールとぬいぐるみぜんぶでいくらですか。



(しき)

答え

2 チューリップは何本ですか。



(しき)

答え



図をつかって考えよう

たし算とひき算の かんけい 3 (11)

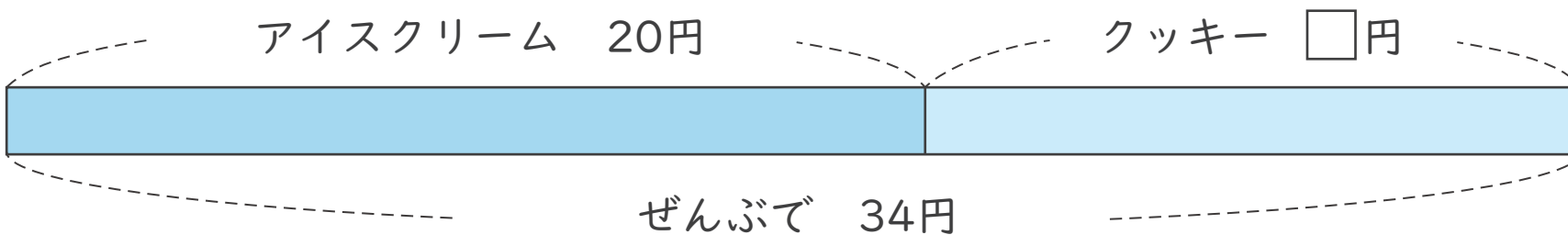
ねん
年

くみ
組

なまえ
名前

図を見て \square をもとめる しきと 答えを 書きましょう。

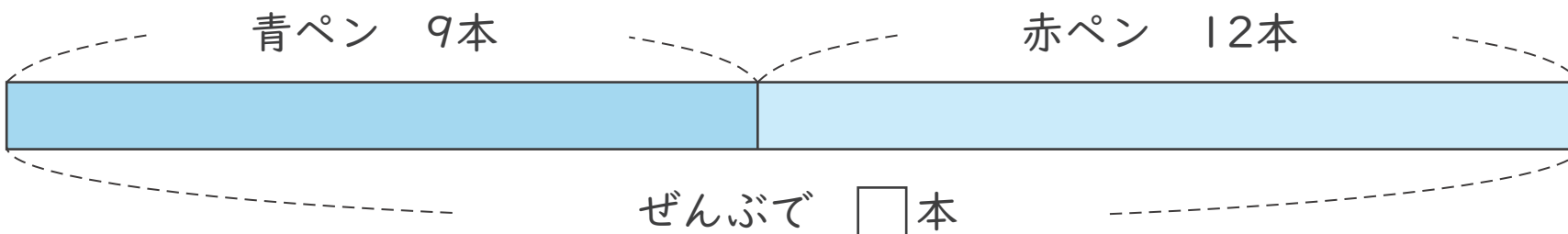
1 クッキーはいくらですか。



(しき)

答え

2 青ペンと赤ペン ぜんぶで 何本ですか。



(しき)

答え



図をつかって考えよう

たし算とひき算の かんけい 3 (12)

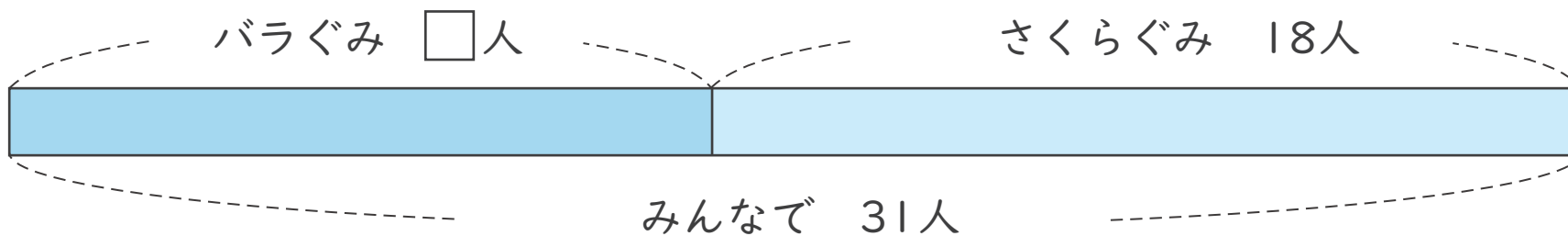
ねん
年

くみ
組

なまえ
名前

図を見て \square をもとめる しきと 答えを 書きましょう。

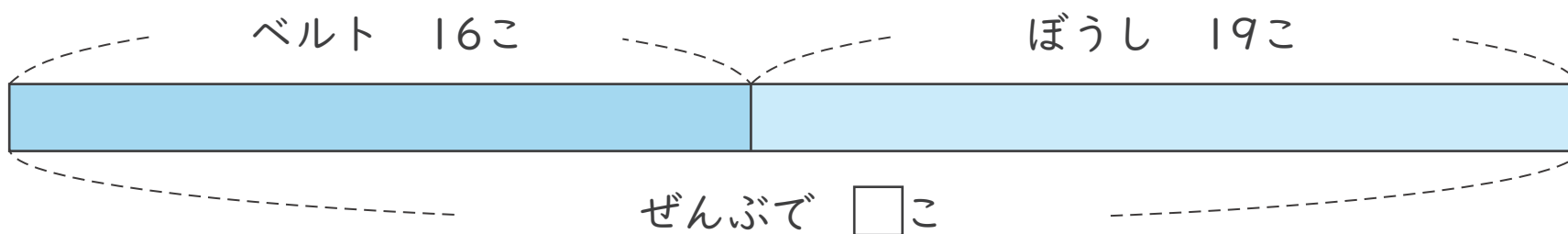
1 バラぐみは何人ですか。



(しき)

答え

2 ベルトとぼうしぜんぶで何こですか。



(しき)

答え



図をつかって考えよう

たし算とひき算のかんけい 3 (1)

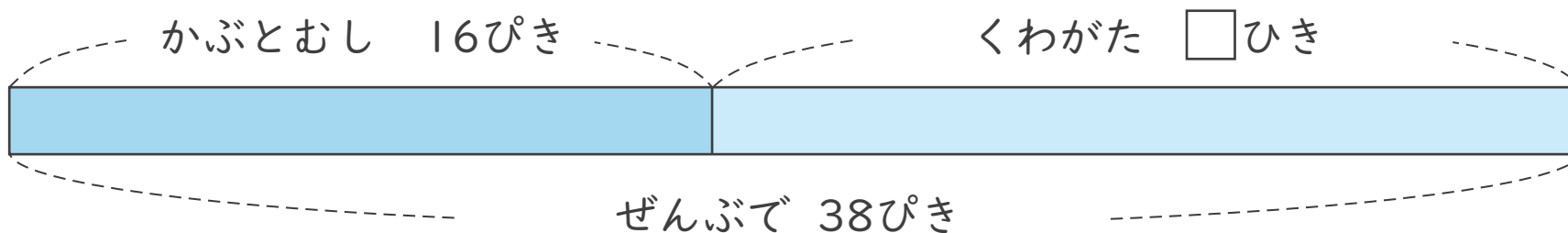
ねん
年

くみ
組

なまえ
名前

図を見て をもとめるしきと 答えを書きましょう。

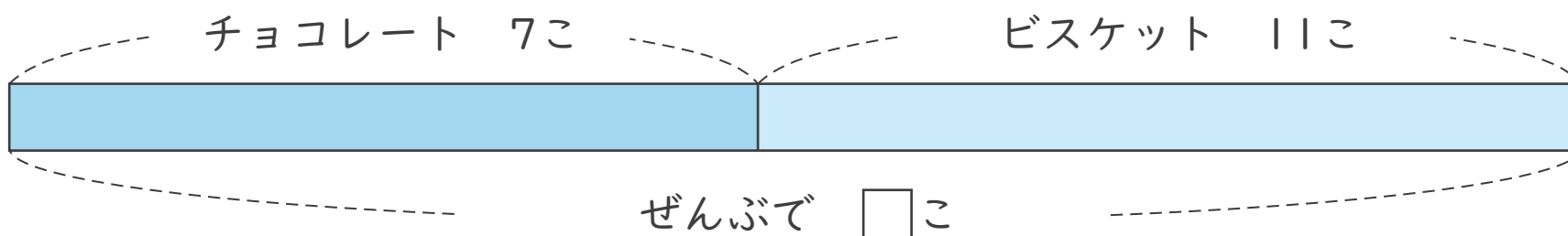
1 くわがたは何ひきですか。



(しき) $38 - 16 = 22$

答え 22 ひき

2 チョコレートとビスケットぜんぶで何こですか。



(しき) $7 + 11 = 18$

答え 18 こ



図をつかって考えよう

たし算とひき算のかんけい 3 (2)

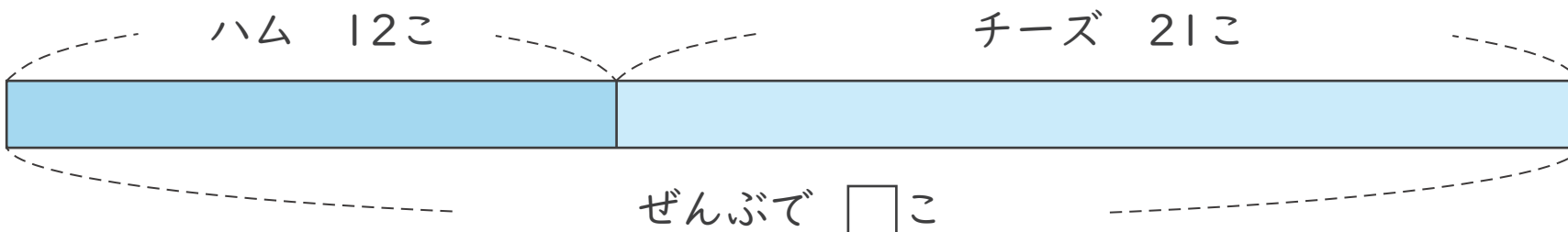
ねん
年

くみ
組

なまえ
名前

図を見て をもとめる しきと 答えを 書きましょう。

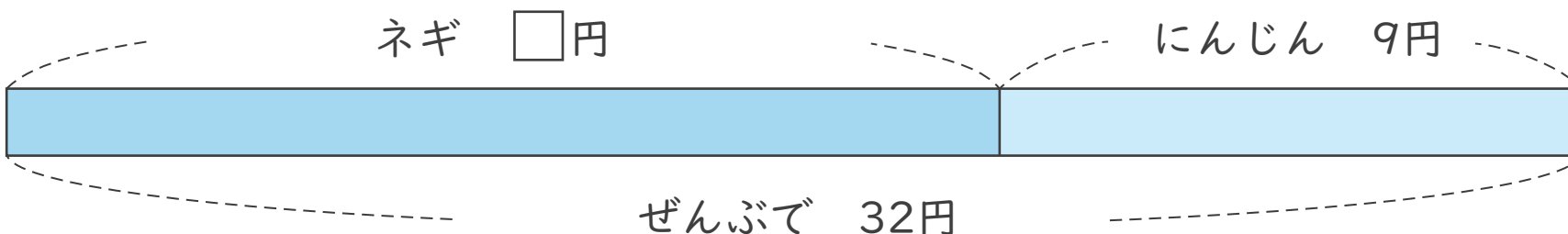
1 ハムとチーズぜんぶで何こですか。



(しき) $12 + 21 = 33$

答え 33 こ

2 ネギはいくらですか。



(しき) $32 - 9 = 23$

答え 23 円



図をつかって考えよう

たし算とひき算の かんけい 3 (3)

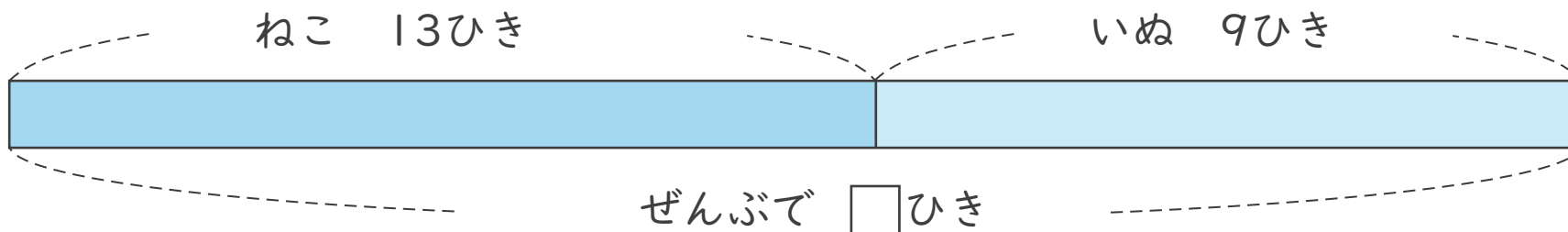
ねん
年

くみ
組

なまえ
名前

図を見て をもとめる しきと 答えを 書きましょう。

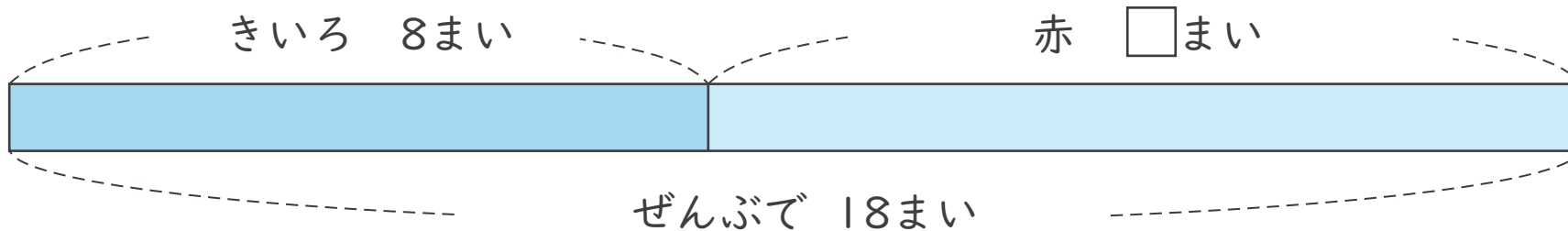
1 ねこと いぬ 合わせて 何ひきですか。



(しき) $13+9=22$

こた
答え 22 ひき

2 赤の おり紙は 何まいですか。



(しき) $18-8=10$

こた
答え 10 まい



図をつかって考えよう

たし算とひき算の かんけい 3 (4)

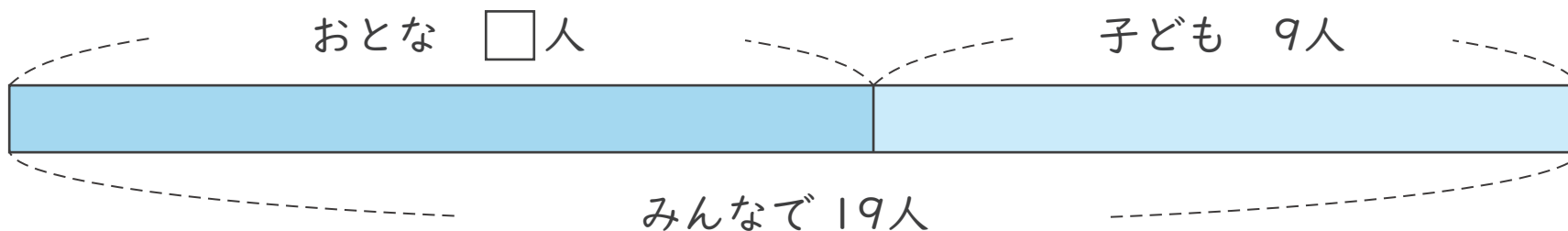
ねん
年

くみ
組

なまえ
名前

図を見て をもとめる しきと 答えを 書きましょう。

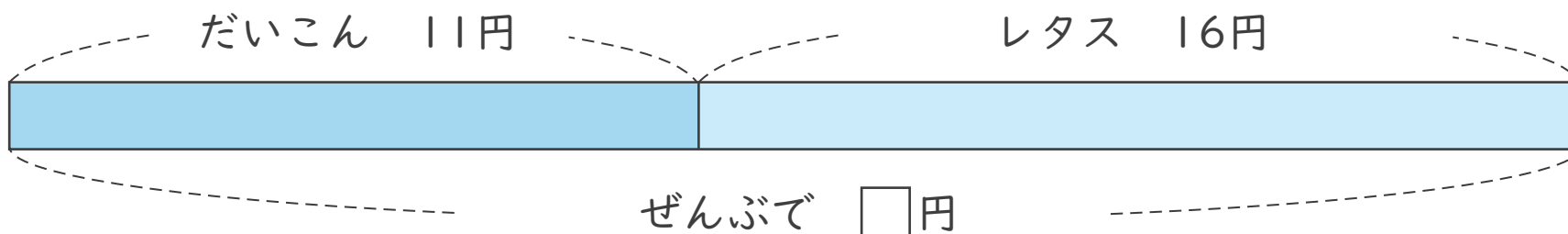
1 おとなは 何人ですか。



(しき) $19 - 9 = 10$

答え 10人

2 だいこんと レタス ぜんぶで いくらですか。



(しき) $11 + 16 = 27$

答え 27円



図をつかって考えよう

たし算とひき算の かんけい 3 (5)

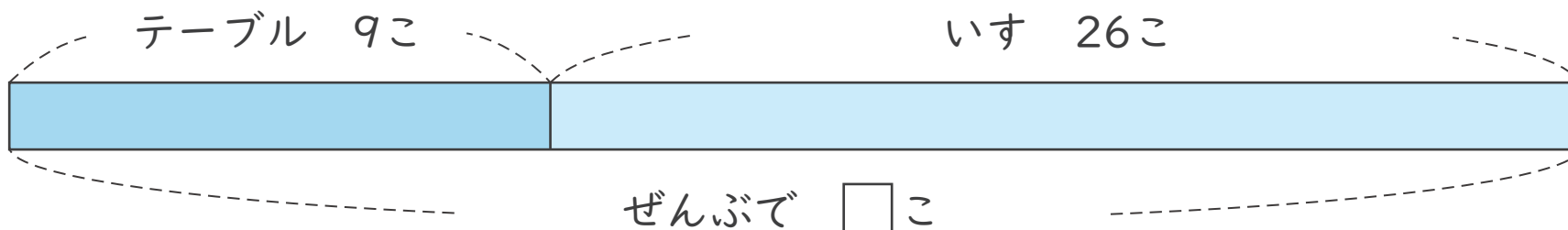
ねん
年

くみ
組

なまえ
名前

図を見て をもとめる しきと 答えを 書きましょう。

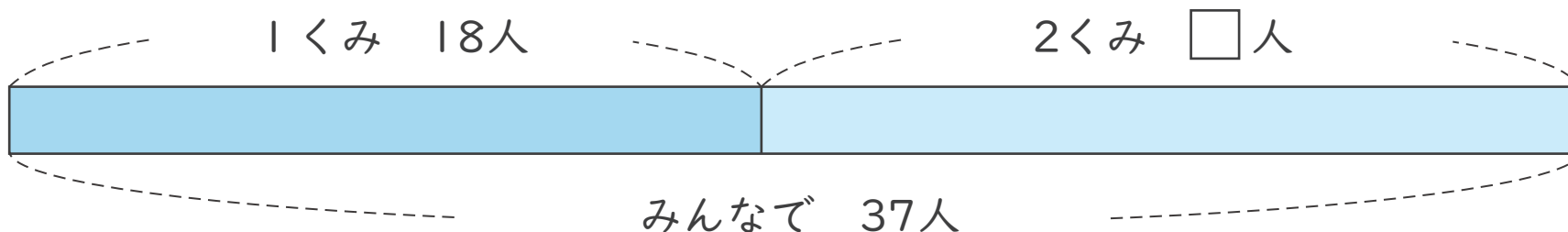
1 テーブルと いす ぜんぶで何こですか。



(しき) $9 + 26 = 35$

答え 35 こ

2 2くみは 何人ですか。



(しき) $37 - 18 = 19$

答え 19 人



図をつかって考えよう

たし算とひき算のかんけい 3 (6)

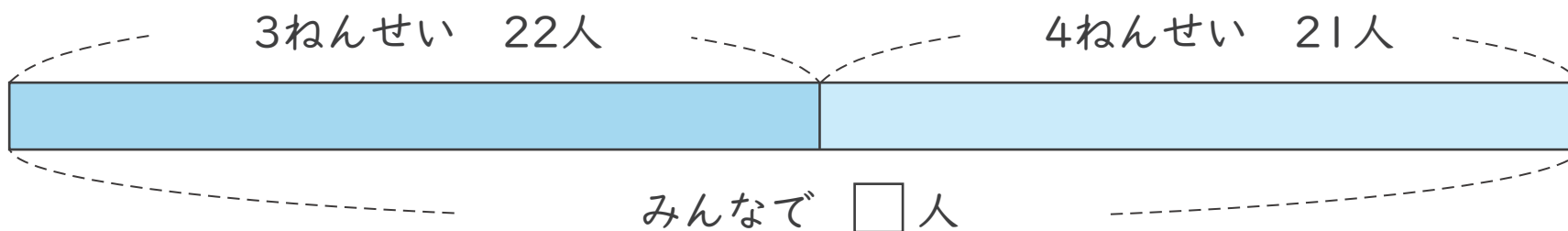
ねん
年

くみ
組

なまえ
名前

図を見て をもとめる しきと 答えを 書きましょう。

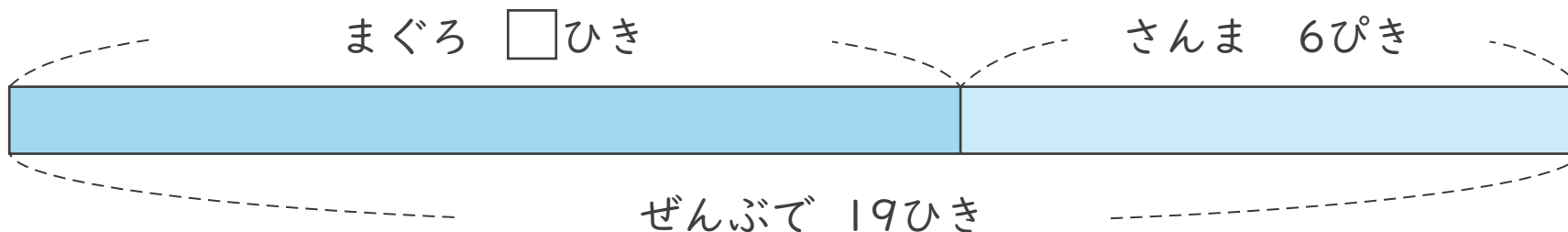
1 3ねんせい 4ねんせい あわせて 何人ですか。



(しき) $22+21=43$

答え 43 人

2 まぐろは 何びきですか。



(しき) $19-6=13$

答え 13 びき



図をつかって考えよう

たし算とひき算の かんけい 3 (7)

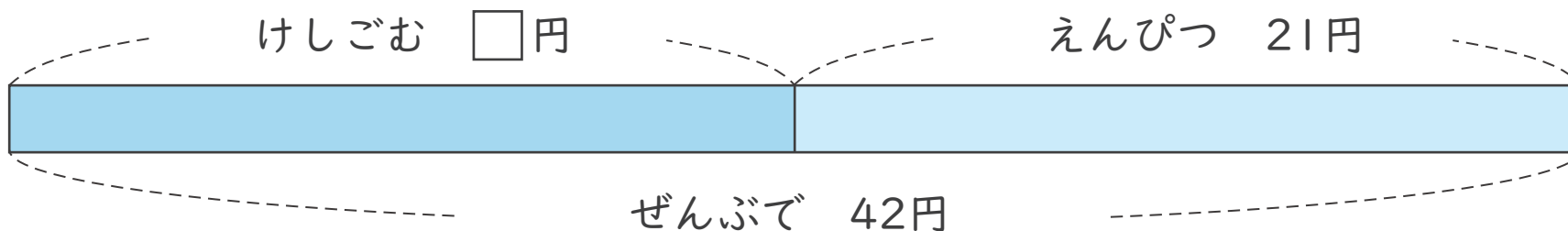
ねん
年

くみ
組

なまえ
名前

図を見て をもとめる しきと 答えを 書きましょう。

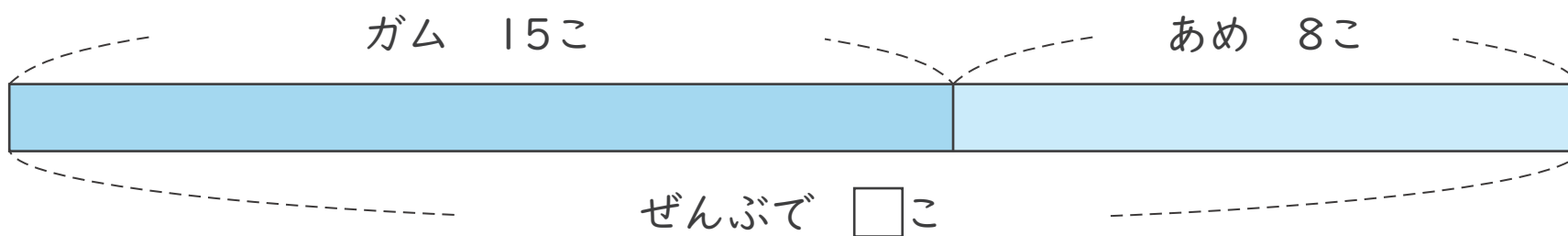
1 けしごおは いくらですか。



(しき) $42 - 21 = 21$

答え 21円

2 ガムと あめ ぜんぶで 何こですか。



(しき) $15 + 8 = 23$

答え 23こ



図をつかって考えよう

たし算とひき算のかんけい 3 (8)

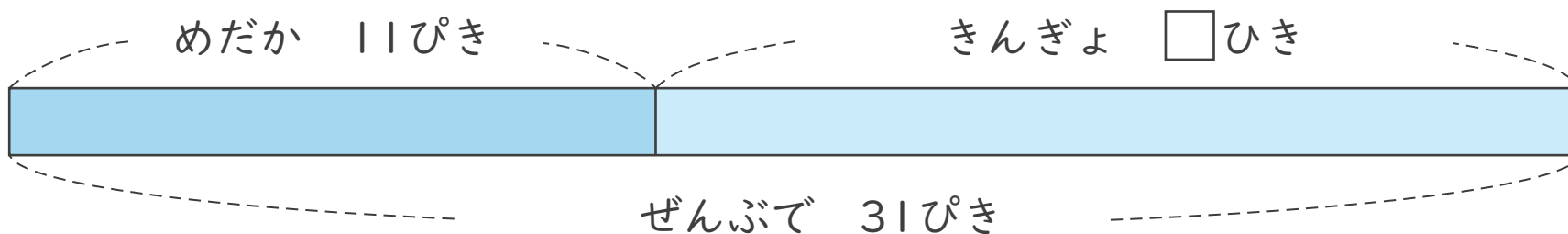
ねん
年

くみ
組

なまえ
名前

図を見て \square をもとめるしきと答えを書きましょう。

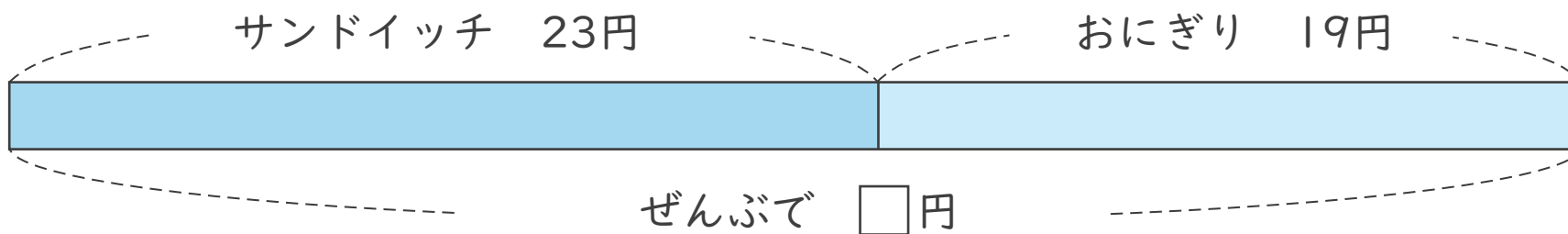
1 きんぎょは何ひきですか。



(しき) $31 - 11 = 20$

こた
答え 20ひき

2 サンドイッチとおにぎりぜんぶでいくらですか。



(しき) $23 + 19 = 42$

こた
答え 42円



図をつかって考えよう

たし算とひき算のかんけい 3 (9)

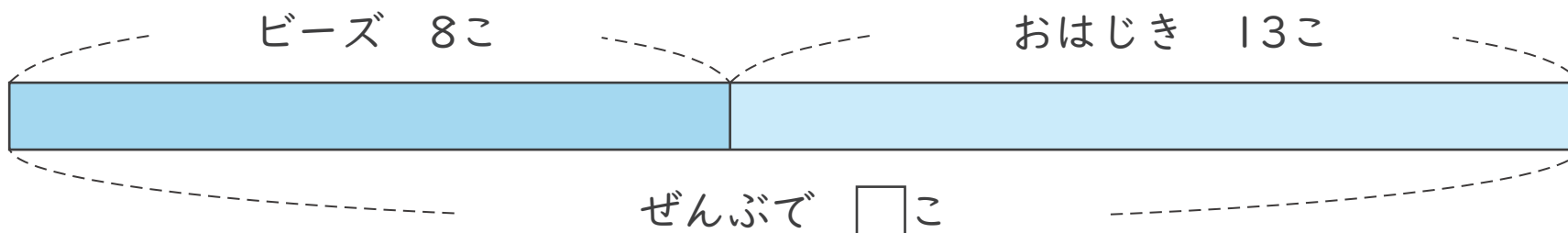
ねん
年

くみ
組

なまえ
名前

図を見て をもとめる しきと 答えを書きましょう。

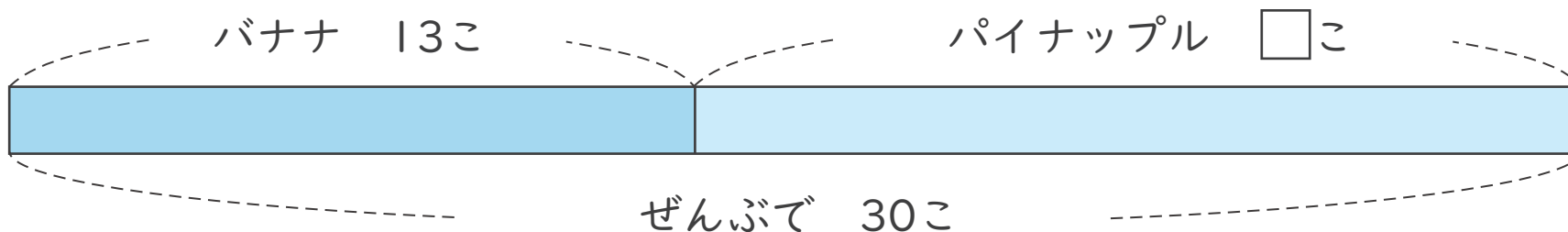
1 ビーズとおはじきぜんぶで何こですか。



(しき) $8 + 13 = 21$

答え 21 こ

2 パイナップルは何こですか。



(しき) $30 - 13 = 17$

答え 17 こ



図をつかって考えよう

たし算とひき算の かんけい 3 (10)

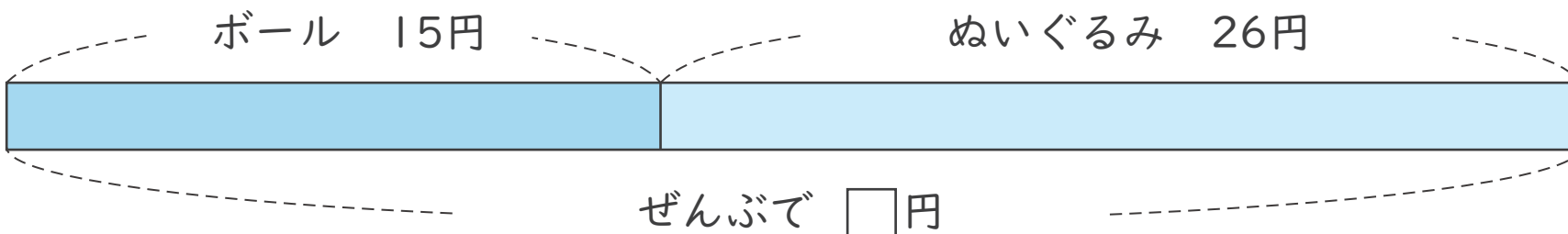
ねん
年

くみ
組

なまえ
名前

図を見て をもとめる しきと 答えを 書きましょう。

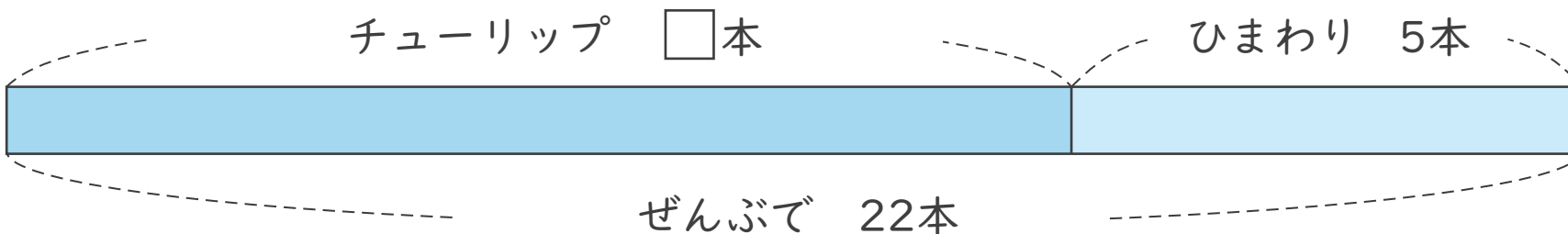
1 ボールとぬいぐるみぜんぶでいくらですか。



(しき) $15 + 26 = 41$

こた
答え 41 円

2 チューリップは何本ですか。



(しき) $22 - 5 = 17$

こた
答え 17 本



図をつかって考えよう

たし算とひき算の かんけい 3 (11)

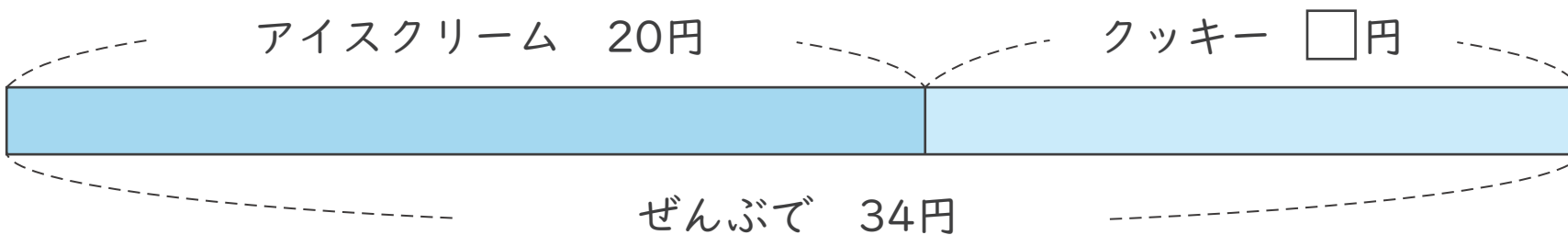
ねん
年

くみ
組

なまえ
名前

図を見て □ をもとめる しきと 答えを 書きましょう。

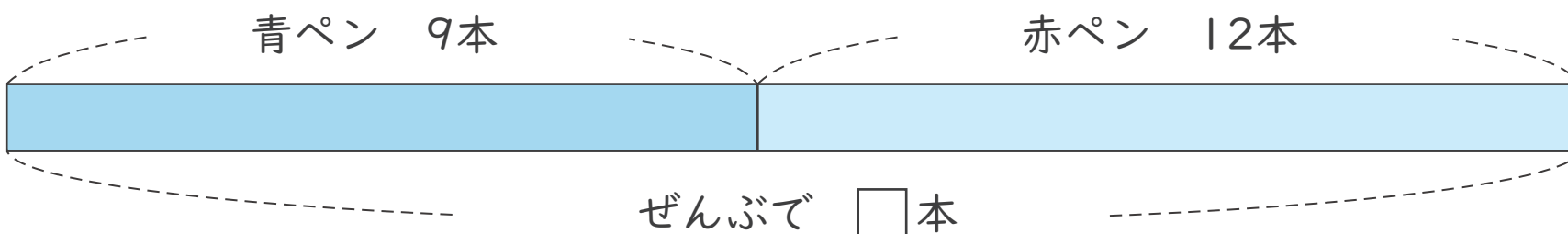
1 クッキーはいくらですか。



(しき) $34 - 20 = 14$

こた
答え 14 円

2 青ペンと 赤ペン ぜんぶで 何本ですか。



(しき) $9 + 12 = 21$

こた
答え 21 本



図をつかって考えよう

たし算とひき算の かんけい 3 (12)

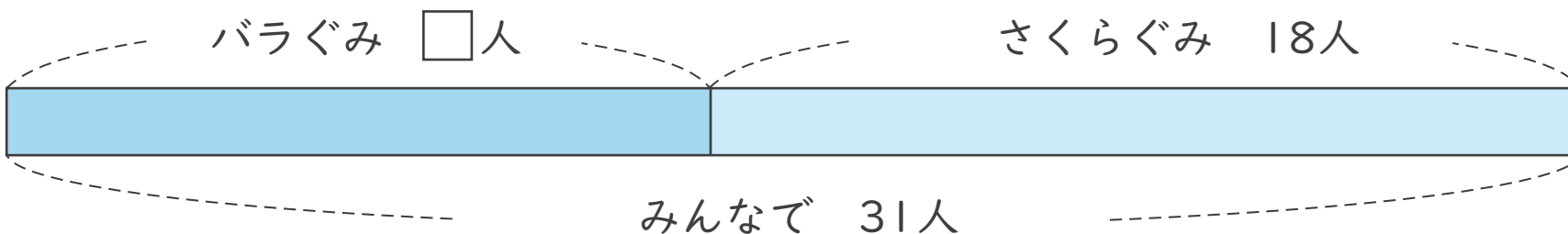
ねん
年

くみ
組

なまえ
名前

図を見て \square をもとめる しきと 答えを 書きましょう。

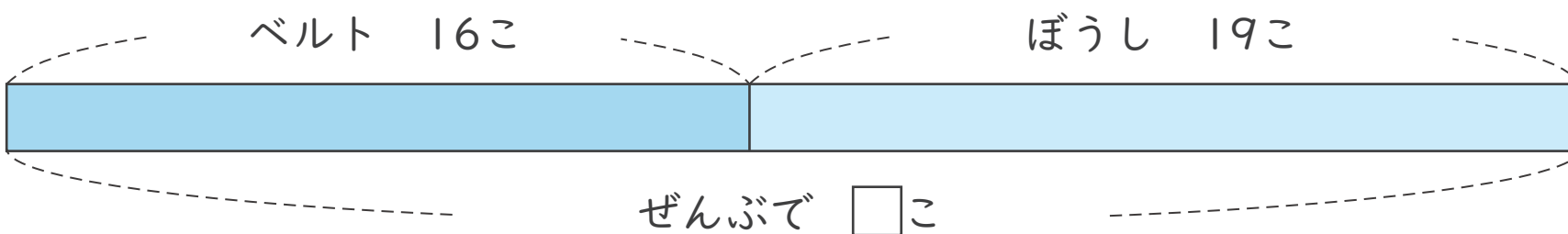
1 バラぐみは 何人ですか。



(しき) $31 - 18 = 13$

答え 13人

2 ベルトとぼうし ぜんぶで 何こですか。



(しき) $16 + 19 = 35$

答え 35こ